


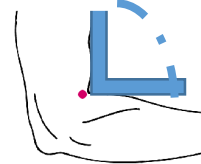
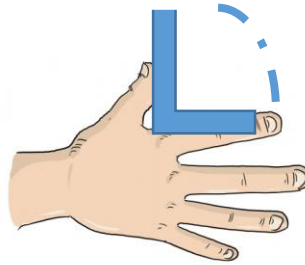




Je comprends le mot « angle »




ANGLE DROIT


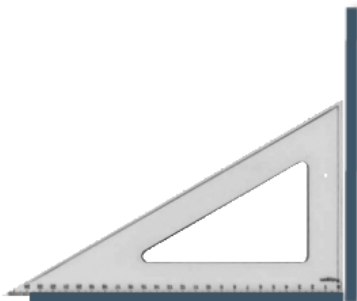
Cet angle est plus petit que l'angle droit.

Cet angle est plus grand que l'angle droit.

Pour savoir si un angle est droit, il faut utiliser une équerre.



Si l'angle et l'équerre se superposent exactement, alors on peut dire que cet angle est droit.



Voici comment on note un angle droit.