

Marie veut s'acheter un livre documentaire sur la forêt. Dans sa tirelire, elle a :



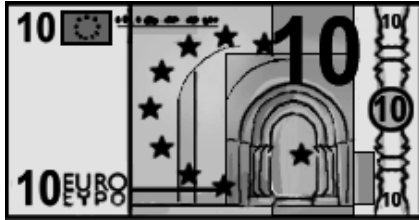
2 billets de 10€

1 billet de 5 €


3 pièces de 2 €

4 pièces de 1 €

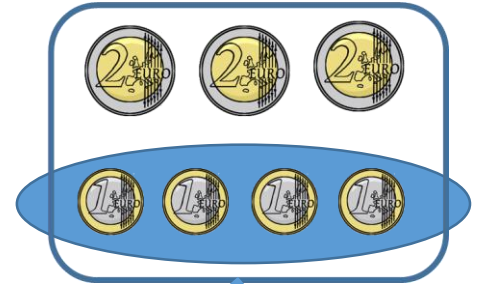
Le livre coûte 31 €. Combien lui restera-t-il après son achat ?



$$20 + 5 + \textcircled{6} + \textcircled{4} = 35$$



31 €



$$35 - 31 = 4$$

Il restera 4 € à Marie après son achat .