

Commencé :

Terminé :

FRANCAIS

Super!

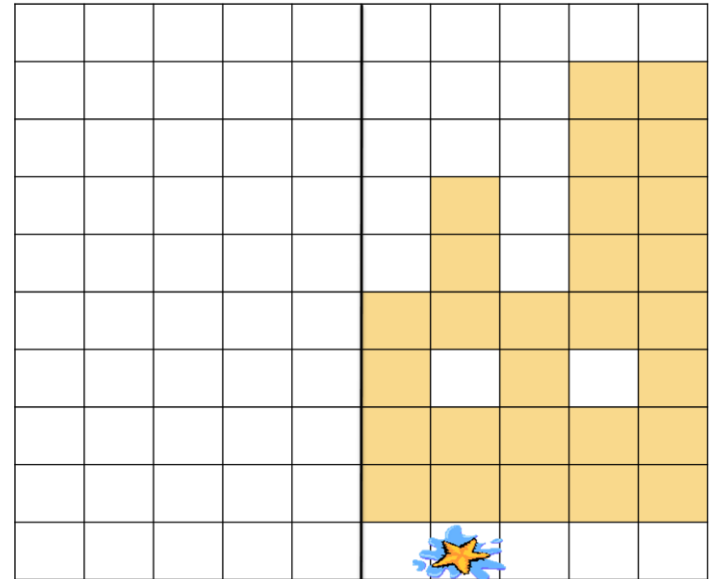



vocabulaire			
orthographe			
grammaire			
conjugaison			
écriture			
application			

MATHEMATIQUES

Numération			
problèmes			
mesures			
jeu			
application			

P
L
A
N
d
e
T
R
A
V
A
I
L
16



PDT16 Français : VOCABULAIRE



Lis chaque liste avant de numéroté du moins au plus.

chaud – tiède – brûlant

○ ○ ○

frais – glacé - froid

○ ○ ○



Retrouve les mots (utilise le dictionnaire)

Je mesure la température

Je protège de la pluie

J'apparais après la pluie

Je protège du soleil

Je tourne quand il y a du vent



Trouve deux mots de la même famille :

feuille -

arbre -

chant -



Français : orthographe

Retrouve et écris les 8 mots cachés :

p	f	h	c	h	i	e	n
e	s	j	l	r	c	a	o
i	v	i	o	l	o	n	x
n	m	n	p	o	g	k	a
t	h	d	u	i	t	b	v
u	p	i	a	n	o	y	i
r	b	e	z	n	g	r	o
e	r	n	q	f	o	i	n

.....
.....
.....
.....
.....
.....
.....
.....



Ecris les GN au pluriel :

un petit poisson rouge -

l'arbre immense -

ce papillon multicolore -

un oiseau migrateur -

la plante verte -



Souligne le verbe en rouge et entoure le sujet en bleu.

Les sangliers ravagent les champs .

Les grimaces du clown font rire les enfants .

Le loup est dans la montagne .

Le frère de mon copain pêche sous le pont .

Le train de marchandises entre en gare .

Les élèves partent en classe verte .



Recopie avec un sujet qui convient :

.....aiment jouer aux cartes .

..... plongeons dans la piscine .



Ecris ce texte à l'imparfait :


Lorsque je me promène dans les sentiers de la forêt , j'écoute les oiseaux qui chantent .Parfois , je regarde de loin un chevreuil qui escalade les rochers .



Complète avec le bon pronom :

..... dansions - veniez - fixaient - étais


..... allaient - dormait - rêvions - jouiez





Range les nombres dans l'ordre croissant :

915 – 865 – 390 – 698 – 309 - 903



Range les nombres dans l'ordre décroissant :

701 – 634 – 897 – 937 – 521 - 620



Continue les suites :

619 – 629 - - - - - - -






505 – 510 - - - - - - -

782 – 792 - - - - - - -

963 – 863 - - - - - - -



Partage les pierres précieuses entre les 2 pirates:



Maths : CALCUL

700 + 40 + 9 =

800 + 70 + 6 =

900 + 50 + 2 =

800 + 40 + 1 =

500 + 80 + 4 =

600 + 90 + 3 =

J'ai 8 centaines, 4 dizaines et 3 unités :

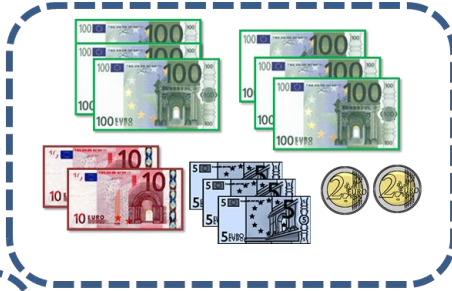
J'ai 60 dizaines et 7 unités :

J'ai 7 centaines et 9 dizaines :

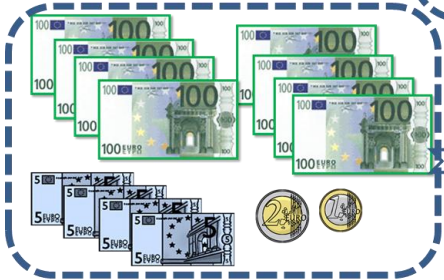

J'ai 999 unités :

Ecris les somme en euros :

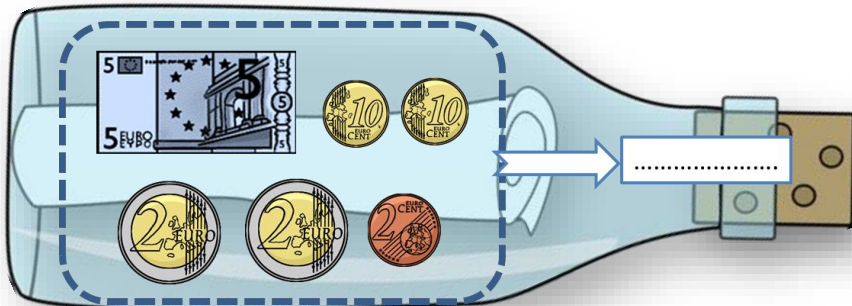
Vacances en Bretagne



Croisière en Méditerranée



Une bouteille à la mer ! Ecris la somme en centimes:



JEU géométrie

