



Nombres et calcul

NC.....



Je comprends la place des chiffres dans un nombre


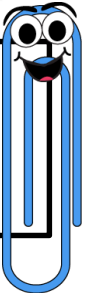
RAPPEL

Je peux échanger 10 unités contre 1 dizaine .



34

Dans un nombre , le chiffre qui est à gauche indique le nombre de dizaines , celui qui est à droite le nombre d'unités .



D	U
3	4




Je sais décomposer :
Ecrire les morceaux du nombre :

$34 = 30 + 4$
 $34 = 10 + 10 + 10 + 4$

3 dizaines :
 C'est-à-dire
 3 groupes
 de 10.

4 unités :
 C'est-à-dire
 4 étoiles
 isolées .

Pour compter des objets , il est pratique de les grouper par 10.
Pour dénombrer , il est utile de former les dizaines .



D	U

Décompose le nombre :

