

PLAN de TRAVAIL 10

FRANCAIS

 Super!




MATHEMATIQUES

 Super!



Applique -toi pour colorier ces papillons. Attention ! Chaque papillon a les ailes identiques :





1) Trouve deux mots de la même famille :

fleur - -

pluie - -

lait - -

ami - -

Trouve le contraire de :

immense -

ouvrir -

adroit -


possible -

Retrouve ces mots dans le dictionnaire et indique la page.

averse : page

météo : page

tempête : page



Souligne le bon verbe en rouge :

Maman *épluchent* / *épluche* / *épluches* les légumes .

Les oiseaux affamés *picore* / *picorent* / *picores* des graines .

Tu *trembles* / *tremble* / *tremblent* de froid .

Les chevaux *galope* / *galopes* / *galopent* dans le pré .

Les élèves *va* / *vais* / *vont* à la piscine .

Continue :

Il remonte — Ils

Il plonge — Ils

Il nage — Ils

Il arrive — Ils

Il se prépare — Ils se

Transforme :

L'école était ouverte.

présent :

futur :

J

H

L

ReCreatisse.com

J

H

L

Ils retournent dans la forêt où un sanglier leur indique une cabane abandonnée sous un saule rieur.


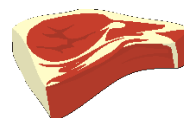
Complète les mots avec an/am, on/om, in/im :

une la....pe – un t....bre – le p....da

un s....ge – ce t....bour – le m....ton

une m....tre – les n....bres -prévu


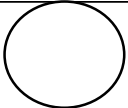
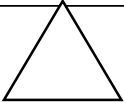

Ecris les mots (tu peux utiliser les cartes dictées :



Colorie puis classe les mots dans le tableau :
 grande - dévorer - tableau - son - voler

lisse - araignée - mes - habile - leur

regarder - maison - rayés - terrier - courir


			

Dessine et colorie les formes pour indiquer la nature des mots :

Vous aurez une cicatrice fluorescente.

La blessure est profonde.

Ecris 4 phrases : Pense à la majuscule et au point pour chaque phrase.



AIDE

aujourd'hui
 tout à coup
 alors
 finalement

A large grid of graph paper for writing.


Range les nombres dans l'ordre croissant :

915 – 865 – 390 – 698 – 309 - 903



Range les nombres dans l'ordre décroissant :

701 – 634 – 897 – 937 – 521 - 620



Continue les suites numériques :

619 – 629 - - - - - - -

505 – 510 - - - - - - -

782 – 792 - - - - - - -

963 – 863 - - - - - - -

Calcule :

$700 + 40 + 9 = \dots\dots$

$800 + 70 + 6 = \dots\dots$

$900 + 50 + 2 = \dots\dots$

$800 + 40 + 1 = \dots\dots$

$500 + 80 + 4 = \dots\dots$

$600 + 90 + 3 = \dots\dots$

Complète en utilisant les étiquettes :

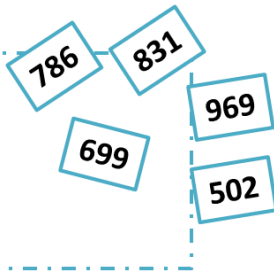
Je suis entre 500 et 600, je suis

Je suis entre 600 et 700, je suis

Je suis entre 700 et 800, je suis

Je suis entre 800 et 900, je suis

Je suis entre 900 et 1000, je suis



Pour chaque nombre trouve le précédent et le suivant :

..... 599 709 510
..... 800 990 600
..... 970 999 701

Ecris les nombres en lettres :

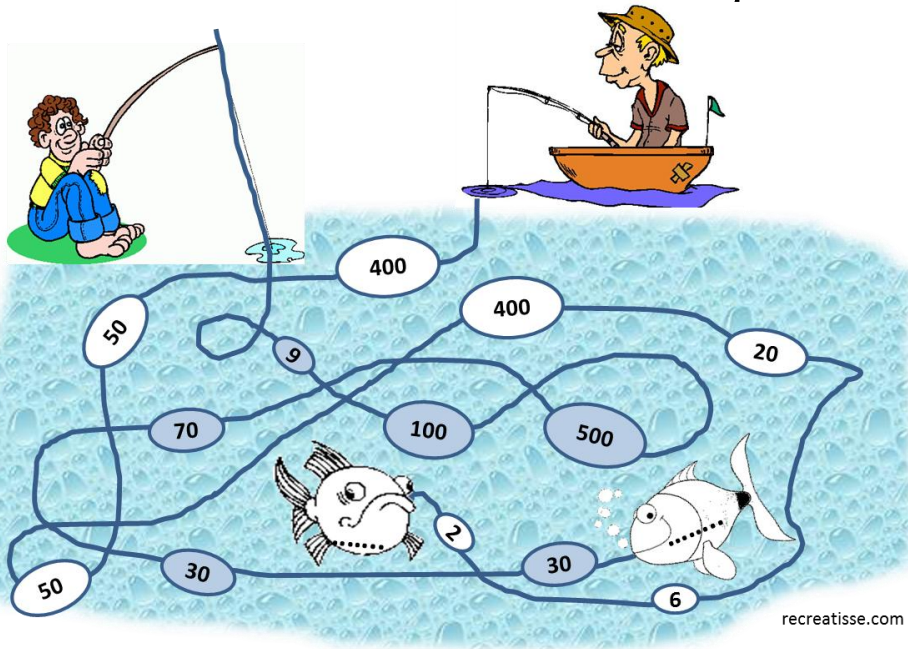
514 :

875 :

792 :

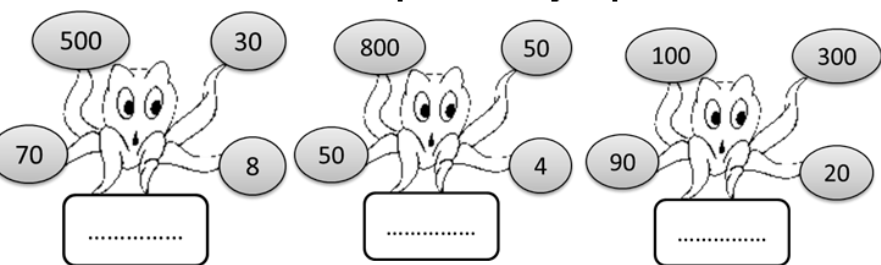
669 :

Suis les fils et écris les sommes dans les poissons :



recreatisse.com

Calcule le nombre total pour chaque pieuvre :



La distance Orléans/ Paris est de 120 km. La voiture a déjà parcouru 80 km. Combien de kilomètres reste-t-il à parcourir ?

schéma

calcul:

calcul:

Phrase réponse:

Josian lit un livre de 156 pages. Il lui reste 32 pages à lire. Combien de pages a-t-il déjà lues ?



schéma

calcul:

calcul:

Phrase réponse:

Sarah arrive au stade à 9h . Elle repart à 10 h 15 .
Dessine les aiguilles et calcule le temps pendant lequel elle était au stade.



.....

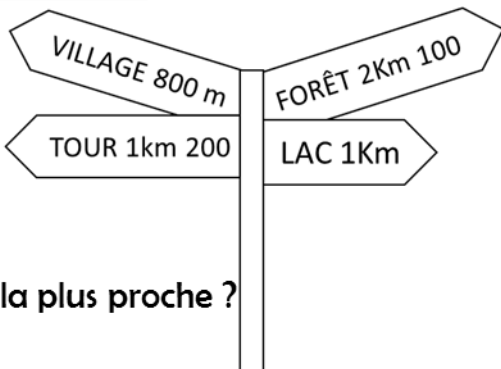
Recopie les distances pour aller :

À la tour :

Au village :

À la forêt :

Au lac :



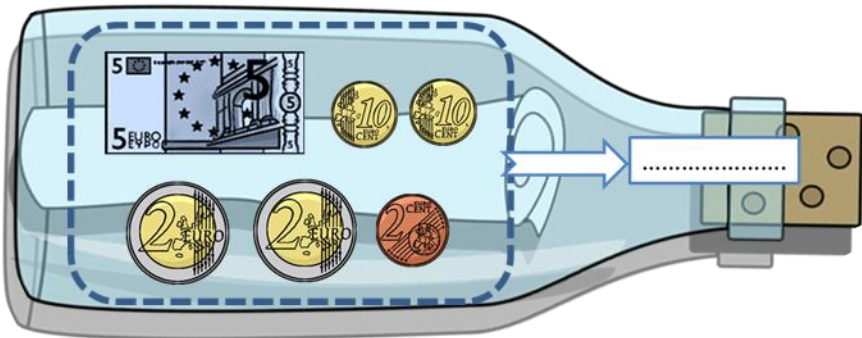
Quel est la destination la plus proche ?

.....

Quelle est la destination la plus éloignée ?

.....

Une bouteille à la mer ! Ecris la somme en centimes:



- 3 : blanc
- 6 : noir
- 9 : bleu clair
- 12 vert clair
- 15 : bleu foncé
- 18 : vert foncé
- 21 : marron
- 24: rose
- 27: jaune
- 30 : rouge

