



Colorie la première lettre de chaque mot pour les écrire dans l'ordre alphabétique :

radis – haricot – courgette – navet - potiron

carotte – aubergine – poivron – tomate - salade



Trouve l'intrus pour le barrer :

sardine
brochet
truite
saumon
mouche
sole
carpe
maquereau

tulipe
rose
lilas
marguerite
violette
coquelicot
muguet
platane


abricot
raisin
carotte
kiwi
pomme
ananas
poire
prune



Retrouve les mots :




na ca pé



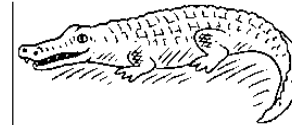
ca va ne ra



ra pa te chu



mo lo co ve ti



co cro le di



ra gi fe



Ecris les mots :



.....

.....

.....

.....



Ecris passé présent ou futur :

- Je suis à l'école. -----
- Au mois de juillet j'étais en vacances. -----
- Demain, je ferai du vélo. -----
- Maintenant, je travaille. -----
- Ce soir, je dormirai. -----
- Aujourd'hui, je mange à la cantine. -----



Entoure les noms propres :

chat Montpellier cartable

Agathe raisin livre Thomas

France école arbre piscine



Relie pour former les phrases :

- Le jardinier * * apporte le raisin à la cave.
- Un renard * * arrose ses légumes.
- Le vigneron * * se glisse dans le poulailler.

ReCreatisse.com



Lis le texte :

Le raisin pousse sur un arbrisseau : c'est la vigne. La vigne aime le soleil, elle a de très jolies feuilles.
Le raisin pousse en grappes : plusieurs grains sont attachés à la même tige. Il est mûr en automne.
Alors, on fait les vendanges. Une grande partie du raisin sert à faire du vin.



Vrai ou faux :

- Le raisin pousse sur la vigne .-----
- La vigne aime la pluie. -----
- Une grappe est formée de plusieurs grains. -----
- Le raisin est mûr au printemps. -----


Comment s'appelle la récolte du raisin ?


.....

Que fait-on avec une grande partie du raisin ?

.....

ReCreatisse.com

 Quel est le nombre de pommes ?




Il y apommes.

d	u

 Compare les nombres avec les signes $<$, $>$, $=$:

13 31 20 2 25 28

20 + 2 22 10 + 5 50 29 9 + 2

 Ecris la somme :




Il y a€.




 Calcule :

- | | | |
|-----------------------|-----------------------|-----------------------|
| $12 + 5 = \dots\dots$ | $20 - 3 = \dots\dots$ | $13 + 6 = \dots\dots$ |
| $16 + 4 = \dots\dots$ | $20 - 5 = \dots\dots$ | $9 + 12 = \dots\dots$ |
| $8 + 10 = \dots\dots$ | $20 - 1 = \dots\dots$ | $3 + 14 = \dots\dots$ |
| $11 + 7 = \dots\dots$ | $20 - 2 = \dots\dots$ | $2 + 18 = \dots\dots$ |

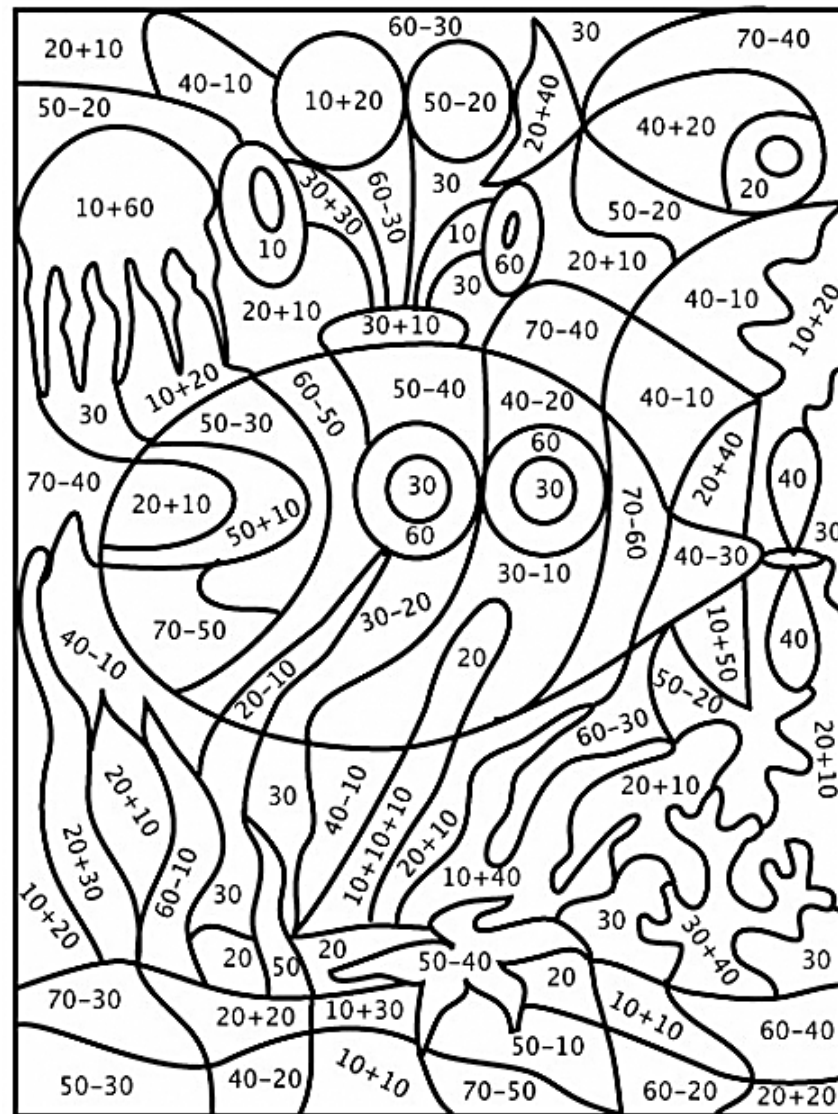

 Calcule :

- | | |
|-----------------------------|----------------------------------|
| $10 + 10 + 10 = \dots\dots$ | $30 + 30 = \dots\dots$ |
| $20 + 20 = \dots\dots$ | $10 + 10 + 10 + 20 = \dots\dots$ |
| $20 + 30 = \dots\dots$ | $10 + 40 = \dots\dots$ |


 Calcule :

- | | |
|------------------------|------------------------|
| $50 - 30 = \dots\dots$ | $60 - 20 = \dots\dots$ |
| $40 - 20 = \dots\dots$ | $30 - 10 = \dots\dots$ |
| $18 - 9 = \dots\dots$ | $12 - 6 = \dots\dots$ |
| $14 - 7 = \dots\dots$ | $16 - 8 = \dots\dots$ |

Utilise ta règle pour vérifier et colorie les étoiles rencontrées par chaque fusée.



PLAN de TRAVAIL 3



Commencé :

Terminé :

FRANCAIS



vocabulaire			
orthographe			
grammaire			
lecture			

MATHEMATIQUES



numération			
calcul			
géométrie			
jeu			

Continue avec ta règle et ton crayon puis colorie comme tu veux :
