


PLAN de TRAVAIL 2



Utilise la règle et le crayon.



Etude de la langue

 Super!



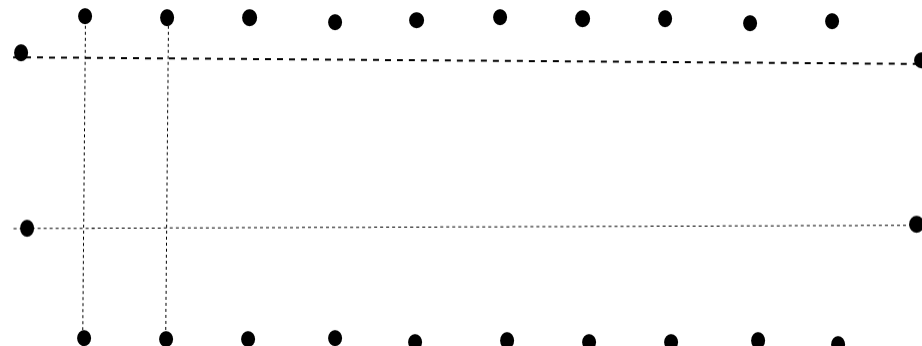
A revoir :

MATHEMATIQUES

 Super!



A revoir :





Colorie la première lettre de chaque mot pour les écrire dans l'ordre alphabétique :

citron – ananas - banane

raisin – pomme - cerise

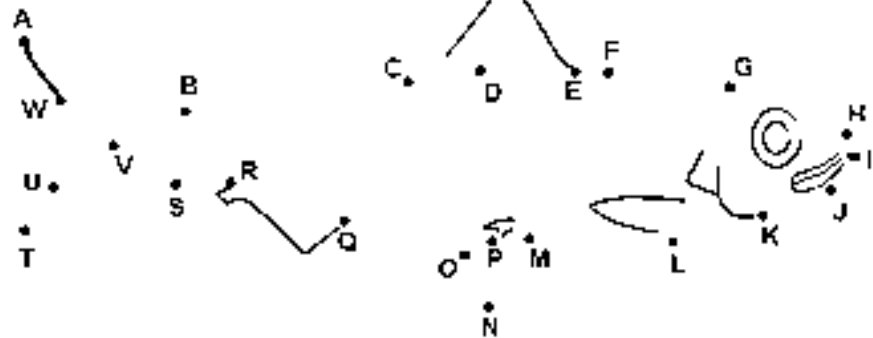


Complète en suivant l'ordre de l'alphabet :


E - - L - -

..... - P - Q M - N - O -

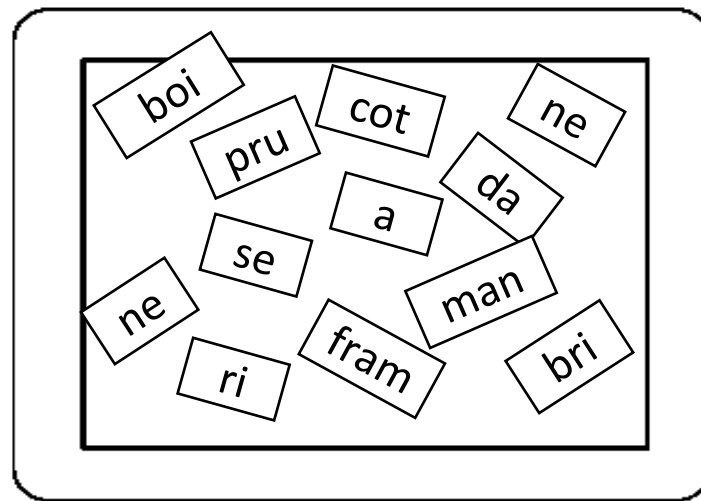
S - - - K - L



Retrouve les mots :



Retrouve le nom de 4 fruits avec ces syllabes :



.....
.....



Barre si ce n'est pas une phrase :

Le hérisson doux la forêt.

L'écureuil balance se branche.

Les canetons suivent leur mère.


Le castor construit sa maison.



Recopie en séparant les mots :

Lelionaunebellecrinière.

Legarçonécoutelamer.



Retrouve la phrase :

se cache monstre
dans Le classe la .




Trouve la lettre manquante :

- une ...êche *un fruit*
- une ...êche *un outil pour jardiner*
- une ...èche *quelques cheveux*
- ...èche *le contraire de mouillée*
- il se ...èche *ce que fait le chat*



Lis le texte :



Toutes les tortues terrestres sont végétariennes, elles ne mangent ni viande ni poisson. Leur appétit et leurs goûts changent avec les saisons. Elles aiment : les salades, les carottes, les choux, les épinards, l'oseille, le concombre, les tomates, le pissenlit, le trèfle.

Complète les phrases en cherchant dans le texte :

Toutes les tortues terrestres sont


Leur.....et leurs..... changent avec les

Elles aiment

 Ecris le nombre précédent et suivant :

..... 9 15 7


..... 12 17 10

 Complète les suites :


7 - 8 - - - - - -


15 - 14 - - - - - -

12 - 14 - 16 - - - - - -

 Range dans l'ordre décroissant : 

6 - 79 - 14 - 8 - 11 - 37 - 23



 Calcule :

$7 + 5 = \dots$ $10 - 3 = \dots$ $8 + 8 = \dots$

$6 + 5 = \dots$ $10 - 9 = \dots$ $3 + 3 = \dots$


$6 + 6 = \dots$ $8 - 7 = \dots$ $9 + 9 = \dots$

$7 + 7 = \dots$ $10 - 2 = \dots$ $10 + 10 = \dots$

 Complète :


$4 + \dots = 9$ $6 + \dots = 12$ $\dots + 5 = \dots$

$1 + \dots = 8$ $\dots + 7 = 14$ $\dots + 3 = \dots$

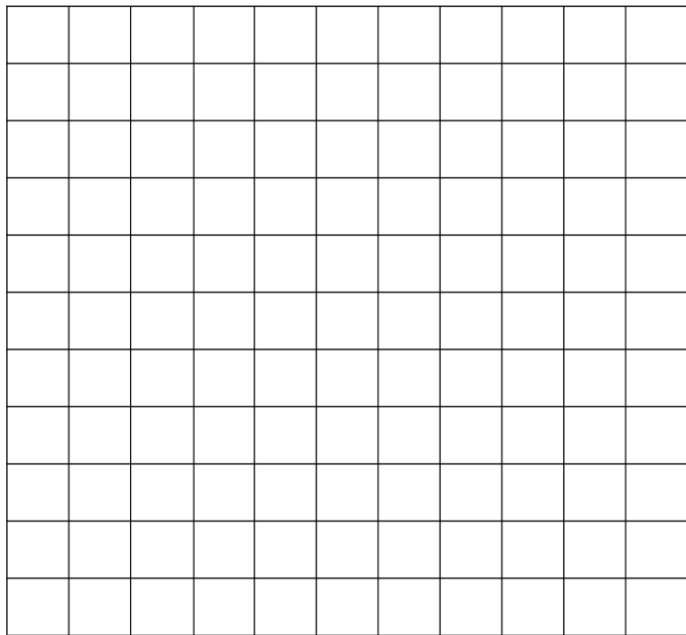
 Calcule :

$2 + 6 + 6 = \dots$ $7 + 3 + 7 = \dots$

$9 + 1 + 9 = \dots$ $5 + 5 + 5 = \dots$



ReCreatise.com



gauche



droite

main



main



main



pied