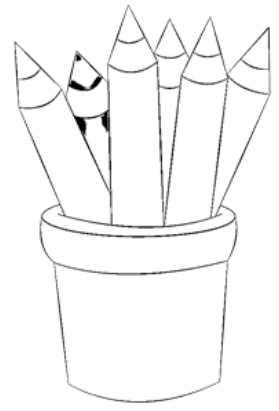




# PLAN de TRAVAIL 6


## FRANCAIS




## MATHEMATIQUES



A l'aide des mots écrits 1 phrase pour chaque image :



1



2



le chat  
une sauterelle  
un bassin  
l'eau



tomber  
éclabousser

Pour commencer,.....

Tout à coup,.....

D

E


F



E

F

Ecris les mots :



Ecris les mots:



**Transforme :**

Il saute - Ils.....

Elle vole - Elles.....

Il répare - Ils .....

Elle regarde - Elles .....

ReCreatisse.com

**Conjugué :**

être

avoir



**Ecris les mots dans le tableau.**

des insectes – la fourmi – l’escargot – le lézard  
ces papillons – les abeilles

SINGULIER	PLURIEL
.....	.....
.....	.....
.....	.....

**Classe les mots dans le tableau.**

une mouche – l’écureuil – la sauterelle – le hérisson  
la coccinelle - un hanneton

MASCULIN	FEMININ
.....	.....
.....	.....
.....	.....

Entoure le nombre le plus grand sur chaque banque :



109 - 190 - 119 - 191

162 - 126 - 160 - 120



131 - 130 - 113 - 103

Range dans l'ordre croissant :

136 - 66 - 109 - 190 - 163 - 96 - 196



..... - ..... - ..... - ..... - ..... - ..... - .....



Complète les étiquettes :

1	0	0
	9	0
		1

1	0	0
	6	0
		5




1	0	0
	7	0
		7




.... + .... + ..... = .....

.... + .... + ..... = .....

.... + .... + ..... = .....



C	D	U
1	3	4
	5	5
<hr/>		

C	D	U
	6	7
1	0	9
<hr/>		

C	D	U
1	7	2
	2	8
<hr/>		

140 + 40 = .....

120 + 30 = .....

170 + 20 = .....

150 + 50 = .....

160 + 40 = .....

190 + 9 = .....

160 - 60 = .....

110 - 20 = .....

160 - 50 = .....

130 - 50 = .....

190 - 70 = .....

180 - 6 = .....



Le cuisinier a commandé 5 boîtes contenant chacune 6 œufs. Combien d'œufs a-t-il ?

Schéma :

calcul:

Phrase réponse:

---



---



---

Colorie les pièces pour avoir 1 € :



Colorie les pièces pour avoir 1 € :



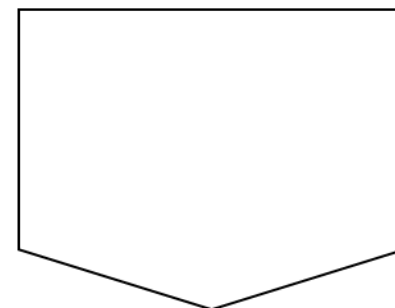
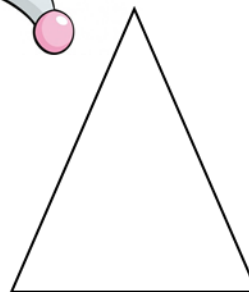
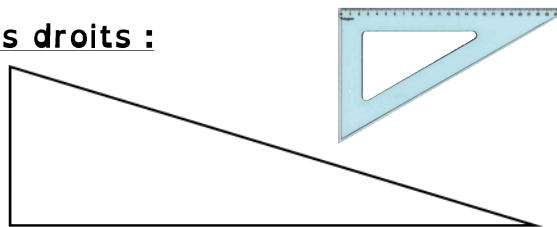

Indique la somme de 2 façons :



.....€ et .....c

.....c

Trouve les angles droits :



Termine le rectangle, utilise ton équerre.

