




MESURES




MESU.....




Le temps qui passe : du matin au soir

Je me lève
à.....h.



MIDI

Je me couche
à.....h.



7h

8h

9h

10h

11h

12h

13h

14h

15h


16h

17h

18h

matin

après-midi



Et maintenant
fabrique ton horloge !

La classe commence le matin à

La récréation du matin est à

La récréation de l'après-midi est à

Je rentre à la maison à

