


J'ai 8 billes dans mon sac.

Je gagne 4 billes à la

récréation.

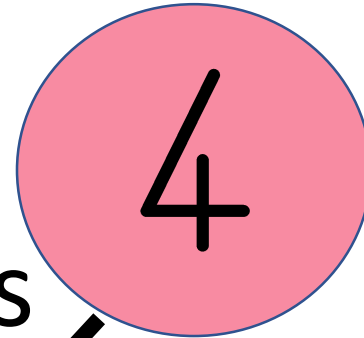



Combien j'ai de billes après


la récréation ?

AVANT

PENDANT



après




$$8 + 4 = 12$$

J'ai 12 billes après la récréation.

J'ai 9 billes dans mon sac.

Je gagne 6 billes à la

récréation.

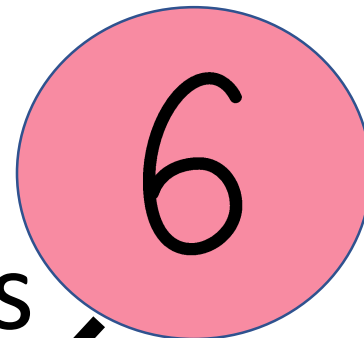
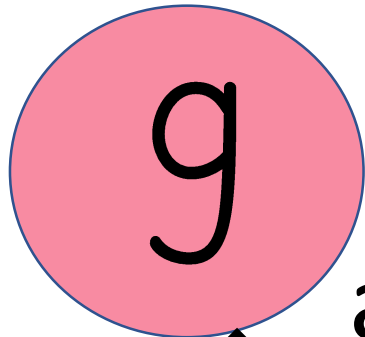


Combien j'ai de billes après


la récréation ?

AVANT

PENDANT



après



$$9 + 6 = 15$$

J'ai 15 billes après la récréation.

J'ai 10 billes dans mon sac.

Je gagne 7 billes à la

récréation.



Combien j'ai de billes après

la récréation ?

AVANT

PENDANT

10

7

après

17




$$10 + 7 = 17$$

J'ai 15 billes après la récréation.

J'ai 8 billes dans mon sac.

Je gagne 8 billes à la

récréation.

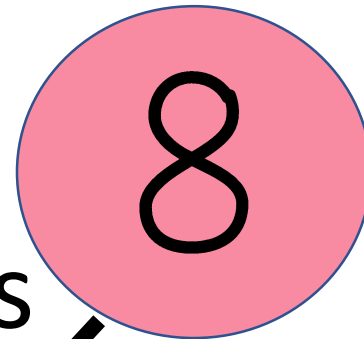
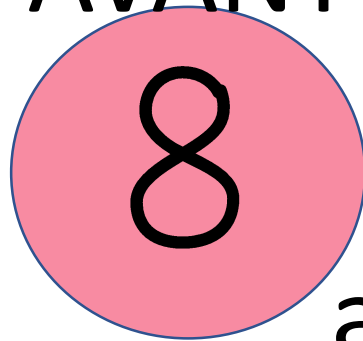


Combien j'ai de billes après


la récréation ?

AVANT

PENDANT



après



$$8 + 8 = 16$$

J'ai 16 billes après la récréation.