

Prénom :



Rendre la monnaie ★

1	2	3	4	5	6	7	8	9	10
11	12	13	14	15	16	17	18	19	20
21	22	23	24	25	26	27	28		

Les centimes



Il faut **100 centimes** pour faire **1 Euro**

Les euros



Comment rendre la monnaie ?

Quand on veut acheter quelque chose, on n'a pas toujours exactement les pièces et les billets nécessaires.

Dans ce cas, on donne un peu plus et le marchand nous rend ce qu'on a donné en trop.

Il doit toujours y avoir la même somme entre ce que je donne, et ce que le marchand me rend.

Exemple :

Je veux acheter un paquet à 6 €.

Je paye avec un billet de 10 €



6 €






1^{ère} façon :

Le marchand me rend ce que j'ai donné en trop.

$10 - 6 = \dots 4 \dots$ J'ai donné 4 € de trop, le marchand doit me rendre 4 €.

2^e façon :

Il doit toujours y avoir la même somme entre ce que je donne, et ce que le marchand me rend.

marchand		moi	
			
6 €			
6	+ ...4...	=	10

Le marchand me donne le paquet à 6 € + 4 €

Je lui donne 10 €.

C'est équitable.



Rendre la monnaie ★

1

En utilisant **le moins possible** de pièces et de billets, dessine les sommes demandées.

236 €

92 €



Rendre la monnaie ★

2

Écris la somme représentée

..... €



..... €



..... €





Rendre la monnaie ★

3

Dessine la monnaie que le marchand doit rendre



4 €



Rendre la monnaie ★

4

Dessine la monnaie que le marchand doit rendre



7 €



Rendre la monnaie ★

5

Dessine la monnaie que le marchand doit rendre



27 €





Rendre la monnaie ★

6

Dessine la monnaie que le marchand doit rendre




16 €



Rendre la monnaie ★

7

Dessine la monnaie que le marchand doit rendre



39 €



Rendre la monnaie ★

8

Dessine la monnaie que le marchand doit rendre



61 €





Rendre la monnaie ★

9

Dessine la monnaie que le marchand doit rendre



94 €



Rendre la monnaie ★

10

Dessine la monnaie que le marchand doit rendre



88 €



Rendre la monnaie ★

11

Dessine la monnaie que le marchand doit rendre



42 €






Rendre la monnaie ★

12

Dessine la monnaie que le marchand doit rendre



6 €



19 €



Rendre la monnaie ★

13

Dessine la monnaie que le marchand doit rendre



137 €



Rendre la monnaie ★

14

Dessine la monnaie que le marchand doit rendre



146 €





Rendre la monnaie ★

15

Dessine la monnaie que le marchand doit rendre



4 €




13 €



Rendre la monnaie ★

16

Dessine la monnaie que le marchand doit rendre



18 €



14 €



Rendre la monnaie ★

17

Dessine la monnaie que le marchand doit rendre



33 €



17 €





Rendre la monnaie ★

18

Dessine la monnaie que le marchand doit rendre



86 €



263 €



Rendre la monnaie ★

19

Dessine la monnaie que le marchand doit rendre



97 €



12 €



Rendre la monnaie ★

20

Dessine la monnaie que le marchand doit rendre



9 €



78 €





Rendre la monnaie ★

21

Dessine la monnaie que le marchand doit rendre



108 €



23 €



54 €



Rendre la monnaie ★

22

Dessine la monnaie que le marchand doit rendre



59 €



48 €



76 €





Rendre la monnaie ★

23

Dessine la monnaie que le marchand doit rendre



80 cts



Rendre la monnaie ★

24

Dessine la monnaie que le marchand doit rendre



85 cts



Rendre la monnaie ★

25

Dessine la monnaie que le marchand doit rendre



64 cts





Rendre la monnaie ★

26

Dessine la monnaie que le marchand doit rendre



1,50 €



Rendre la monnaie ★

27

Dessine la monnaie que le marchand doit rendre



4,99 €



Rendre la monnaie ★

28

Dessine la monnaie que le marchand doit rendre



8,95 €

