




La ruse du renard CE1

1

Il y a 8 vaches dans ce pré.
Combien cela fait-il de pattes en tout ?



Réponse :


Cela faitpattes.



La ruse du renard CE1

2

Vincent a 31 cartes, son amie
Lilie lui en donne 17. Combien a –
t-il de cartes maintenant ?



Réponse :

Maintenant, il acartes.



La ruse du renard CE1

3

Il y avait 35 oiseaux sur l'arbre, 16 se sont envolés. Combien reste-t-il d'oiseaux sur l'arbre ?



Réponse :


Il resteoiseaux sur l'arbre.



La ruse du renard CE1

4

Dans la forêt, il y a 248 châtaignes sur l'arbre et 142 châtaignes sur le sol. Calcule le nombre total de châtaignes.



Réponse :

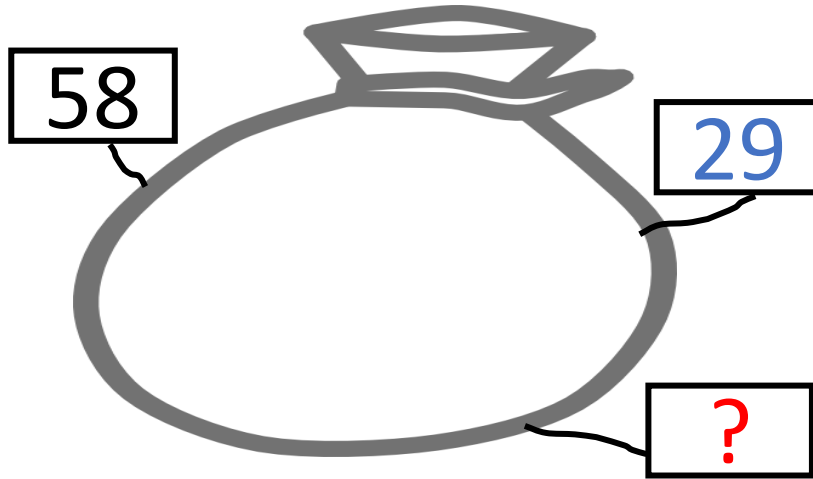
Il y achâtaignes.



La ruse du renard CE1

5

Noa vient à l'école avec 58 billes rouges et bleues, 29 billes sont rouges . Combien sont bleues ?



Réponse :

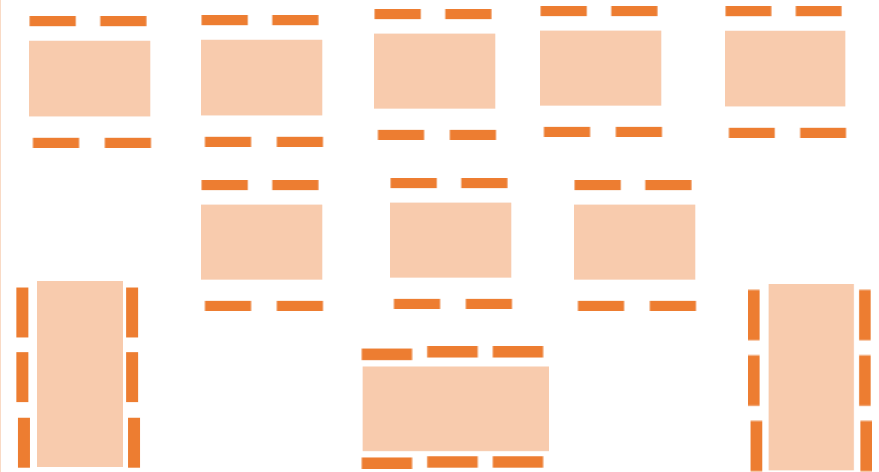
Il y a billes bleues.



La ruse du renard CE1

6

Dans ce restaurant, il y a 8 tables de 4 personnes et 3 tables de 6 personnes. Combien peut-on servir de repas ?



Réponse :

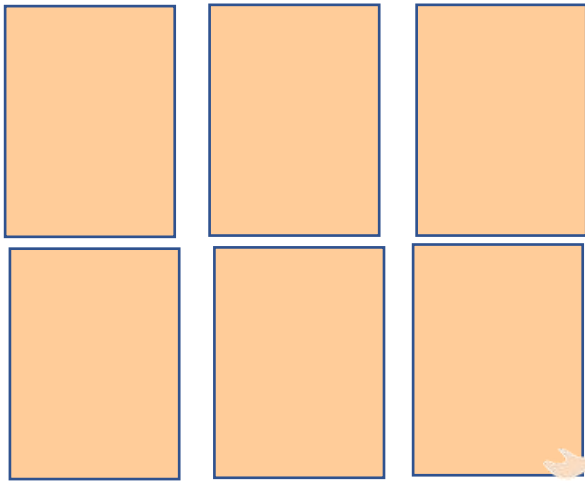
On peut servir repas.



La ruse du renard CE1

7

La maitresse répartit équitablement 30 étiquettes dans 6 pochettes. Combien d'étiquettes met-elle dans chaque pochette ?



J'ai 30 étiquettes

Réponse :

Elle met étiquettes dans chaque pochette.

ReCreatisse.com


This work is licensed under a [Creative Commons Attribution-NonCommercial-ShareAlike 4.0 International License](https://creativecommons.org/licenses/by-nc-sa/4.0/).



La ruse du renard CE1

8

Pour jouer à un jeu, Paul distribue 10 cartes par joueur. Il y a 5 joueurs. Quel est le nombre de cartes ?



10 cartes par joueur !



Réponse :

Il y a cartes.

ReCreatisse.com


This work is licensed under a [Creative Commons Attribution-NonCommercial-ShareAlike 4.0 International License](https://creativecommons.org/licenses/by-nc-sa/4.0/).



La ruse du renard CE1

9

La boulangère a fait 30 gros cookies. Elle les répartit équitablement dans 5 sachets. Indique combien il y a de cookies dans chaque sachet.



Réponse :

Il y a cookies dans chaque sachet.



La ruse du renard CE1

10

Le boulanger a fait 72 pains. Le matin, il vend 39 pains. Combien lui reste-il de pains à vendre l'après-midi ?



Réponse :

Il lui reste pains à vendre.



La ruse du renard CE1

11

A maitresse distribue 4 jetons à 7 élèves. Combien distribue-t-elle de jetons en tout ?



Réponse :


Elle distribuejetons.



La ruse du renard CE1

12

Une tablette de chocolat a 5 carreaux sur sa largeur et 9 carreaux sur sa longueur. Quel est le nombre de carreaux de chocolat ?



Réponse :

Il y acarreaux de chocolat.



La ruse du renard CE1

13

Léa a 15 euros de plus que Sam. Sam a 38 euros.
Quelle somme d'argent possède Léa ?



Réponse :

Léa possède€.



La ruse du renard CE1

14

Maëlle a 57 euros, Paul a 9 euros de moins. Combien Paul a -t-il dans sa tirelire ?



Réponse :


Paul a€.



La ruse du renard CE1

15

Valentin a 68 billes, Noé en a 82.
Ils mettent leurs billes dans le même
sac. Indique le nombre de billes du sac.



Réponse :


Il y a ...billes dans le sac.



La ruse du renard CE1

16

Tom a 118 billes, il en perd 34 pendant
la récréation. Combien a-t-il de billes
maintenant ?



Réponse :

Tom abilles.



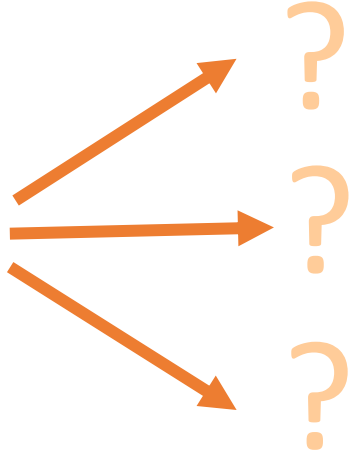
La ruse du renard CE1

17

Le directeur de l'école a commandé 24 ballons. Il doit en donner autant à chacune des 3 classes de maternelle. Combien chaque classe aura-t-elle de ballons ?



24 ballons



Réponse :

Chaque classe aura.....ballons.



La ruse du renard CE1

18

La cuisinière fait une soupe avec 15 pommes de terre, 12 carottes, 9 navets, 4 poireaux. Combien de légumes y a-t-il dans cette soupe ?



Réponse :


Il y alégumes dans cette soupe.



La ruse du renard CE1

19

Le carrelage de la classe est composé de 10 lignes de 10 carreaux. Combien Y -t-il de carreaux en tout ?



Réponse :

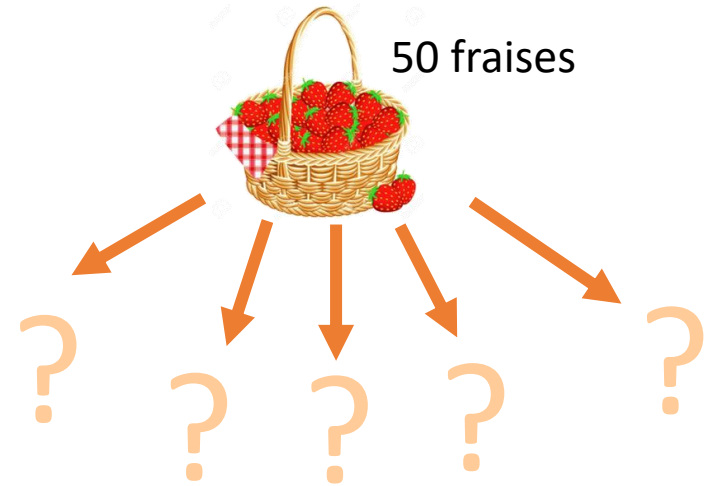
Il y acarreaux.



La ruse du renard CE1

20

Victor a ramassé 50 fraises.
Il les partage équitablement
entre les 5 membres de la famille.
Combien chacun aura de fraises ?



Réponse :

Chacun aurafraises.



La ruse du renard CE1

$$8 \times 4 = 32$$

1

ReCreatisse.com

Cela fait 32 pattes.

This work is licensed under a [Creative Commons Attribution-NonCommercial-ShareAlike 4.0 International License](https://creativecommons.org/licenses/by-nc-sa/4.0/).



La ruse du renard CE1

$$31 + 17 = 48$$

2

ReCreatisse.com

Maintenant, il a 48 cartes.

This work is licensed under a [Creative Commons Attribution-NonCommercial-ShareAlike 4.0 International License](https://creativecommons.org/licenses/by-nc-sa/4.0/).



La ruse du renard CE1

$$35 - 16 = 19$$

3

ReCreatisse.com

Il reste 19 oiseaux sur l'arbre.

This work is licensed under a [Creative Commons Attribution-NonCommercial-ShareAlike 4.0 International License](https://creativecommons.org/licenses/by-nc-sa/4.0/).



La ruse du renard CE1

$$248 + 142 = 390$$

4

ReCreatisse.com

Il y a 390 châtaignes.

This work is licensed under a [Creative Commons Attribution-NonCommercial-ShareAlike 4.0 International License](https://creativecommons.org/licenses/by-nc-sa/4.0/).



La ruse du renard CE1

$$58 - 29 = 29$$

5

ReCreatisse.com

Il y a 29 billes bleues.

This work is licensed under a [Creative Commons Attribution-NonCommercial-ShareAlike 4.0 International License](https://creativecommons.org/licenses/by-nc-sa/4.0/).



La ruse du renard CE1

$$8 \times 4 = 32$$

$$3 \times 6 = 18$$

$$32 + 18 = 50$$

6

ReCreatisse.com

On peut servir 50 repas.

This work is licensed under a [Creative Commons Attribution-NonCommercial-ShareAlike 4.0 International License](https://creativecommons.org/licenses/by-nc-sa/4.0/).



La ruse du renard CE1

$$30 : 6 = 5$$

7

ReCreatisse.com

Elle met 5 étiquettes
dans chaque pochette.

This work is licensed under a [Creative Commons Attribution-NonCommercial-ShareAlike 4.0 International License](https://creativecommons.org/licenses/by-nc-sa/4.0/).



La ruse du renard CE1

$$10 \times 5 = 50$$

8

ReCreatisse.com

Il y a 50 cartes.

This work is licensed under a [Creative Commons Attribution-NonCommercial-ShareAlike 4.0 International License](https://creativecommons.org/licenses/by-nc-sa/4.0/).



La ruse du renard CE1

$$30 : 5 = 6$$

9

ReCreatisse.com

Il y a 6 cookies dans
chaque sachet.

This work is licensed under a [Creative Commons Attribution-NonCommercial-ShareAlike 4.0 International License](https://creativecommons.org/licenses/by-nc-sa/4.0/).



La ruse du renard CE1

$$72 - 39 = 33$$

10

ReCreatisse.com

Il lui reste 33 pains à vendre.

This work is licensed under a [Creative Commons Attribution-NonCommercial-ShareAlike 4.0 International License](https://creativecommons.org/licenses/by-nc-sa/4.0/).



La ruse du renard CE1

$$4 \times 7 = 28$$

11

ReCreatisse.com

Elle distribue 28 jetons.

This work is licensed under a [Creative Commons Attribution-NonCommercial-ShareAlike 4.0 International License](https://creativecommons.org/licenses/by-nc-sa/4.0/).



La ruse du renard CE1

$$5 \times 9 = 45$$

12

ReCreatisse.com

Il y a 45 carreaux de chocolat.

This work is licensed under a [Creative Commons Attribution-NonCommercial-ShareAlike 4.0 International License](https://creativecommons.org/licenses/by-nc-sa/4.0/).



La ruse du renard CE1

$$38 + 15 = 53$$

13

ReCreatisse.com

Léa a 53 €.

This work is licensed under a [Creative Commons Attribution-NonCommercial-ShareAlike 4.0 International License](https://creativecommons.org/licenses/by-nc-sa/4.0/).



La ruse du renard CE1

$$57 - 9 = 48$$

14

ReCreatisse.com

Paul a 48 €.

This work is licensed under a [Creative Commons Attribution-NonCommercial-ShareAlike 4.0 International License](https://creativecommons.org/licenses/by-nc-sa/4.0/).



La ruse du renard CE1

$$68 + 82 = 150$$

15

ReCreatisse.com

Il y a 150 billes dans le sac.

This work is licensed under a [Creative Commons Attribution-NonCommercial-ShareAlike 4.0 International License](https://creativecommons.org/licenses/by-nc-sa/4.0/).



La ruse du renard CE1

$$118 - 34 = 84$$

16

ReCreatisse.com

Tom a 84 billes.

This work is licensed under a [Creative Commons Attribution-NonCommercial-ShareAlike 4.0 International License](https://creativecommons.org/licenses/by-nc-sa/4.0/).



La ruse du renard CE1

$$24 : 3 = 8$$

17

ReCreatisse.com

Chaque classe aura 8 ballons.

This work is licensed under a [Creative Commons Attribution-NonCommercial-ShareAlike 4.0 International License](https://creativecommons.org/licenses/by-nc-sa/4.0/).



La ruse du renard CE1

$$15 + 12 + 9 + 4 = 40$$

18

ReCreatisse.com

Il y a 40 légumes
dans cette soupe.

This work is licensed under a [Creative Commons Attribution-NonCommercial-ShareAlike 4.0 International License](https://creativecommons.org/licenses/by-nc-sa/4.0/).



La ruse du renard CE1

Série 6

Niveau 1

La ruse du renard CE1 15

Valentin a 68 billes, Noé en a 82. Ils mettent leurs billes dans le même sac. Indique le nombre de billes du sac.

68 billes 82 billes

Réponse :

Il y a ... billes dans le sac.

← Lis

← Cherche

← Complète

La ruse du renard CE1 15

$68 + 82 = 150$

Il y a 150 billes dans le sac.

← Vérifie



La ruse du renard CE1

$$10 \times 10 = 100$$

19

Il y a 100 carreaux en tout.

This work is licensed under a [Creative Commons Attribution-NonCommercial-ShareAlike 4.0 International License](https://creativecommons.org/licenses/by-nc-sa/4.0/).



La ruse du renard CE1

$$50 : 5 = 10$$

20

Chacun aura 10 fraises.

This work is licensed under a [Creative Commons Attribution-NonCommercial-ShareAlike 4.0 International License](https://creativecommons.org/licenses/by-nc-sa/4.0/).