




La ruse du renard CE2

1

Pour préparer un gâteau, il faut 4 pommes, 3 œufs et 300g de farine.

Combien faut-il de pommes, d'œufs et de farine pour 2 gâteaux ?



Pour 2 gâteaux ...



Réponse : Pour 2 gâteaux, il faut :
..... pommes
..... œufs
..... g de farine

ReCreatisse.com



La ruse du renard CE2

2

Le tour du terrain de sport est de 800m.
Emma s'entraîne, elle fait 3 tours.

Combien a-t-elle parcouru :
en mètres ?
en kilomètres ?



Réponse : Emma a parcouru :
.....m
.....km.....

ReCreatisse.com



La ruse du renard CE2

3

Dans une grande boîte d'œufs, il y a 5 rangées de 6 œufs mais 3 œufs sont cassés.
Combien d'œufs peuvent être utilisés ?



Réponse :


On peut utiliserœufs.



La ruse du renard CE2

4

Un minibus peut transporter 8 enfants et 2 adultes. Combien peut-on transporter d'enfants avec 5 minibus ?



Réponse :

On peut transporterenfants.



La ruse du renard CE2

5

Dans un parking, le stationnement coûte 5€ par jour.
Combien doit-on payer pour stationner une semaine ?

Lundi
Mardi
Mercredi
Jeudi
Vendredi
Samedi
Dimanche

Réponse :

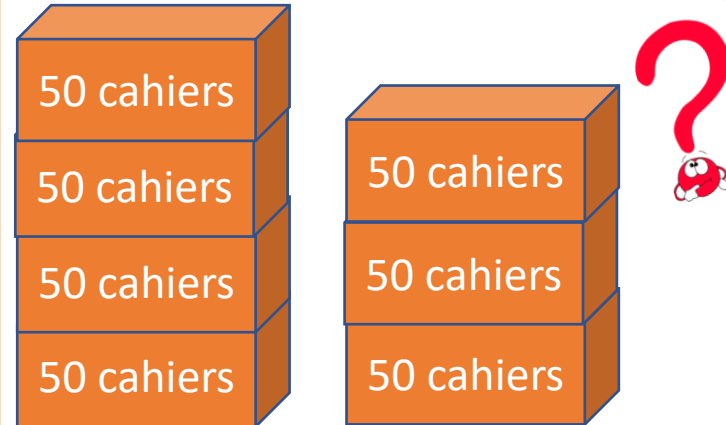
On doit payer.....€.



La ruse du renard CE2

6

La directrice a commandé 7 paquets de 50 cahiers.
Combien recevra-t-elle de cahiers ?



Réponse :

Elle recevra cahiers.



La ruse du renard CE2

7

Dans la cour, il y a 5 groupes de 6 enfants et 3 groupes de 8 enfants.
Combien y a-t-il d'enfants dans la cour de récréation ?



Réponse :

Il y aenfants dans la cour.

ReCreatisse.com

This work is licensed under a [Creative Commons Attribution-NonCommercial-ShareAlike 4.0 International License](https://creativecommons.org/licenses/by-nc-sa/4.0/).



La ruse du renard CE2

8

Dans cette ferme, il y a 25 vaches et 12 volailles.
Indique le nombre de pattes.

Étable
25 vaches

Poulailler
12 volailles

Réponse :

Il y apattes.

ReCreatisse.com

This work is licensed under a [Creative Commons Attribution-NonCommercial-ShareAlike 4.0 International License](https://creativecommons.org/licenses/by-nc-sa/4.0/).



La ruse du renard CE2

9

Chaque semaine, ce marchand vend 30 kg de fruits.

Combien vend-il de kg de fruits en 1 semaine ?

Lundi

Mardi

Mercredi

Jeudi

Vendredi

Samedi

Dimanche

Réponse :

Il vendkg de fruits en 1 semaine.

ReCreatisse.com

This work is licensed under a [Creative Commons Attribution-NonCommercial-ShareAlike 4.0 International License](https://creativecommons.org/licenses/by-nc-sa/4.0/).



La ruse du renard CE2


10

Combien Théo a-t-il de billes en tout ?

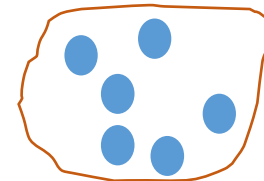
7 paquets de 8 billes rouges

3 paquets 6 billes bleues


8 paquets de 5 billes vertes



7 paquets



3 paquets



8 paquets

Réponse :

Théo abilles en tout.

ReCreatisse.com


This work is licensed under a [Creative Commons Attribution-NonCommercial-ShareAlike 4.0 International License](https://creativecommons.org/licenses/by-nc-sa/4.0/).



La ruse du renard CE2

11

Dans la classe de Camille, il y a 4 rangées de 6 bureaux une place et une table ronde de 6 places. Combien d'élèves peuvent s'asseoir dans cette classe ?



Réponse :


.....élèves peuvent s'asseoir dans cette classe.



La ruse du renard CE2

12

Dans l'immeuble d'Alex, il y a 8 étages. A chaque étage, il y a 6 fenêtres. Cherche le nombre total de fenêtres de l'immeuble.



Réponse :

Il y afenêtres .



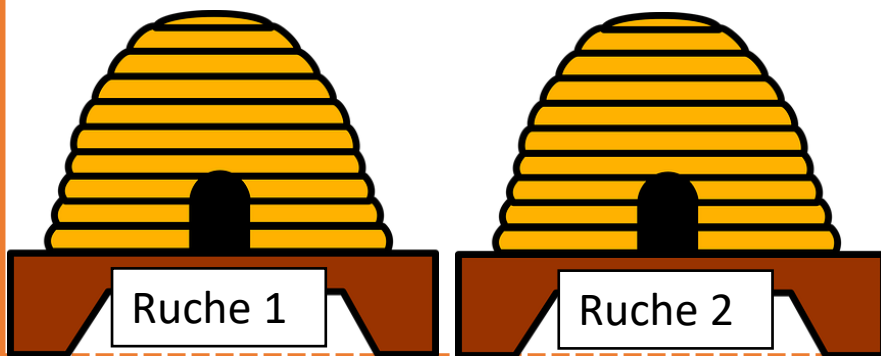
La ruse du renard CE2

13

L'apiculteur a 2500 abeilles dans sa ruche 1 et trois fois plus dans sa ruche 2.
Combien a-t-il d'abeilles dans la ruche 2 ?
Combien a-t-il d'abeilles en tout ?

2500 abeilles

Trois fois plus !



Réponse :

L'apiculteur aabeilles dans la ruche 2.

Il aabeilles en tout.

ReCreatisse.com

This work is licensed under a [Creative Commons Attribution-NonCommercial-ShareAlike 4.0 International License](https://creativecommons.org/licenses/by-nc-sa/4.0/).



La ruse du renard CE2

14

Tom a fait une construction avec 180 Légos, son ami Mathis a utilisé quatre fois plus de Légos pour la sienne.
Quel est le nombre de Légos utilisés par Mathis ?



Quatre fois plus !



Réponse :

Mathis a utiliséLégos.

ReCreatisse.com


This work is licensed under a [Creative Commons Attribution-NonCommercial-ShareAlike 4.0 International License](https://creativecommons.org/licenses/by-nc-sa/4.0/).



La ruse du renard CE2

15

Le fermier a 25 vaches. Chacune donne 10 litres de lait chaque jour. Combien de litres de lait le fermier a-t-il en une semaine ?



10 l de lait chaque jour

Lundi
Mardi
Mercredi
Jeudi
Vendredi
Samedi
Dimanche

Réponse :

Le fermier a litres de lait
en une semaine.

ReCreatisse.com

This work is licensed under a [Creative Commons Attribution-NonCommercial-ShareAlike 4.0 International License](https://creativecommons.org/licenses/by-nc-sa/4.0/).



La ruse du renard CE2

16

Le jardinier a planté 10 lignes de 30 poireaux mais un rat en a dévoré 5. Combien de poireaux peut-il récolter ?



Réponse :

Le jardinier peut récolter
poireaux.

ReCreatisse.com

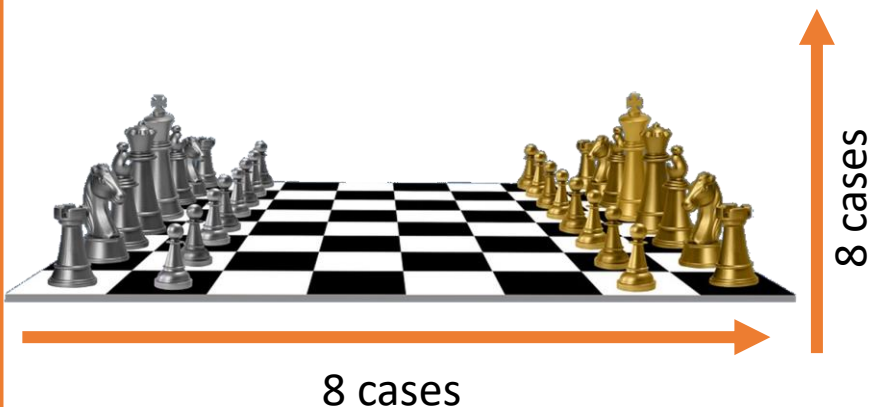
This work is licensed under a [Creative Commons Attribution-NonCommercial-ShareAlike 4.0 International License](https://creativecommons.org/licenses/by-nc-sa/4.0/).



La ruse du renard CE2

17

Le plateau d'un jeu d'échecs est formé d'un quadrillage de 8 cases sur 8.
De combien de cases le plateau est-il constitué ?



Réponse :


Il y a cases.



La ruse du renard CE2

18

Chaque semaine, Jules met 25 € dans sa tirelire.
Quelle somme a-t-il au bout de 4 semaines ?



Semaine 1

Semaine 2

Semaine 3

Semaine 4

Réponse :

Il a€.



La ruse du renard CE2

19

Un poissonnier vend 50 kg de poissons chaque semaine.
Combien vend-il de poissons au bout de quatre semaines ?

Semaine 1

Semaine 2

Semaine 3

Semaine 4



Réponse :

Il vendkg de poissons.

ReCreatisse.com


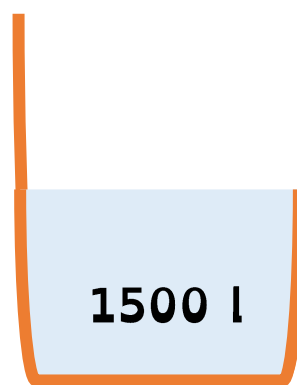
This work is licensed under a [Creative Commons Attribution-NonCommercial-ShareAlike 4.0 International License](https://creativecommons.org/licenses/by-nc-sa/4.0/).



La ruse du renard CE2

20

Un fermier a 1500 litres d'eau dans sa citerne, son voisin en a deux fois plus.
Quelle quantité d'eau a le voisin ?



Réponse :

Il alitres.

ReCreatisse.com

This work is licensed under a [Creative Commons Attribution-NonCommercial-ShareAlike 4.0 International License](https://creativecommons.org/licenses/by-nc-sa/4.0/).



La ruse du renard CE2

$$4 \times 2 = 8$$
$$3 \times 2 = 6$$
$$300 \times 2 = 600$$

1

ReCreatisse.com

Pour 2 gâteaux, il faut : 8 pommes, 6 œufs, 600 g de farine.

This work is licensed under a [Creative Commons Attribution-NonCommercial-ShareAlike 4.0 International License](https://creativecommons.org/licenses/by-nc-sa/4.0/).



La ruse du renard CE2

$$800 \times 3 = 2400$$

2

ReCreatisse.com

Emma a parcouru

$$2400 \text{ m} - 2 \text{ km } 400$$

This work is licensed under a [Creative Commons Attribution-NonCommercial-ShareAlike 4.0 International License](https://creativecommons.org/licenses/by-nc-sa/4.0/).



La ruse du renard CE2

$$5 \times 6 = 30$$
$$30 - 3 = 27$$

3

ReCreatisse.com

On peut utiliser 27 œufs.

This work is licensed under a [Creative Commons Attribution-NonCommercial-ShareAlike 4.0 International License](https://creativecommons.org/licenses/by-nc-sa/4.0/).



La ruse du renard CE2

$$8 \times 5 = 40$$

4

ReCreatisse.com

On peut transporter 40 enfants.

This work is licensed under a [Creative Commons Attribution-NonCommercial-ShareAlike 4.0 International License](https://creativecommons.org/licenses/by-nc-sa/4.0/).



La ruse du renard CE2

$$5 \times 7 = 35$$

5

ReCreatisse.com

On doit payer 35 €.

This work is licensed under a [Creative Commons Attribution-NonCommercial-ShareAlike 4.0 International License](https://creativecommons.org/licenses/by-nc-sa/4.0/).



La ruse du renard CE2

$$7 \times 50 = 350$$

6

ReCreatisse.com

Elle recevra 350 cahiers.

This work is licensed under a [Creative Commons Attribution-NonCommercial-ShareAlike 4.0 International License](https://creativecommons.org/licenses/by-nc-sa/4.0/).



La ruse du renard CE2

7

$$5 \times 6 = 30$$

$$3 \times 8 = 24$$

$$30 + 24 = 54$$

Il y a 54 enfants dans la cour.

This work is licensed under a [Creative Commons Attribution-NonCommercial-ShareAlike 4.0 International License](https://creativecommons.org/licenses/by-nc-sa/4.0/).

ReCreatisse.com



La ruse du renard CE2

8

$$25 \times 4 = 100$$

$$12 \times 2 = 24$$

$$100 + 24 = 124$$

Il y a 124 pattes.

This work is licensed under a [Creative Commons Attribution-NonCommercial-ShareAlike 4.0 International License](https://creativecommons.org/licenses/by-nc-sa/4.0/).

ReCreatisse.com



La ruse du renard CE2

9

$$30 \times 7 = 210$$

Il vend 210 kg de fruits en
une semaine.

This work is licensed under a [Creative Commons Attribution-NonCommercial-ShareAlike 4.0 International License](https://creativecommons.org/licenses/by-nc-sa/4.0/).

ReCreatisse.com



La ruse du renard CE2

10

$$7 \times 8 = 56$$

$$3 \times 6 = 18$$

$$8 \times 5 = 40$$

Théo a 114 billes en tout.

This work is licensed under a [Creative Commons Attribution-NonCommercial-ShareAlike 4.0 International License](https://creativecommons.org/licenses/by-nc-sa/4.0/).

ReCreatisse.com



La ruse du renard CE2

11

$$4 \times 6 = 24$$

$$24 + 6 = 30$$

30 élèves peuvent s'asseoir dans cette
classe.

This work is licensed under a [Creative Commons Attribution-NonCommercial-ShareAlike 4.0 International License](https://creativecommons.org/licenses/by-nc-sa/4.0/).

ReCreatisse.com



La ruse du renard CE2

12

$$8 \times 6 = 48$$

Il y a 48 fenêtres.

This work is licensed under a [Creative Commons Attribution-NonCommercial-ShareAlike 4.0 International License](https://creativecommons.org/licenses/by-nc-sa/4.0/).

ReCreatisse.com



La ruse du renard CE2

$$2500 \times 3 = 7500$$

$$2500 + 7500 = 10\ 000$$

13

L'apiculteur a 7500 abeilles dans la ruche 2.

L'apiculteur a 10 000 abeilles en tout.

This work is licensed under a [Creative Commons Attribution-NonCommercial-ShareAlike 4.0 International License](https://creativecommons.org/licenses/by-nc-sa/4.0/).

ReCreatisse.com



La ruse du renard CE2

$$180 \times 4 = 720$$

14

Mathis a utilisé 720 légos.

This work is licensed under a [Creative Commons Attribution-NonCommercial-ShareAlike 4.0 International License](https://creativecommons.org/licenses/by-nc-sa/4.0/).

ReCreatisse.com



La ruse du renard CE2

$$25 \times 10 = 250$$

$$250 \times 7 = 1750$$

15

Le fermier a 1750 litres de lait en une semaine.

This work is licensed under a [Creative Commons Attribution-NonCommercial-ShareAlike 4.0 International License](https://creativecommons.org/licenses/by-nc-sa/4.0/).

ReCreatisse.com



La ruse du renard CE2

$$10 \times 30 = 300$$

$$300 - 5 = 295$$

16

Le jardinier peut récolter 295 poireaux.

This work is licensed under a [Creative Commons Attribution-NonCommercial-ShareAlike 4.0 International License](https://creativecommons.org/licenses/by-nc-sa/4.0/).

ReCreatisse.com



La ruse du renard CE2

$$8 \times 8 = 64$$

17

Il y a 64 cases.

This work is licensed under a [Creative Commons Attribution-NonCommercial-ShareAlike 4.0 International License](https://creativecommons.org/licenses/by-nc-sa/4.0/).

ReCreatisse.com



La ruse du renard CE2

$$25 \times 4 = 100$$

18

Il a 100 €.

This work is licensed under a [Creative Commons Attribution-NonCommercial-ShareAlike 4.0 International License](https://creativecommons.org/licenses/by-nc-sa/4.0/).

ReCreatisse.com



La ruse du renard CE2

Série 2

Niveau 1

La ruse du renard CE2 13

L'apiculteur a 2500 abeilles dans sa ruche 1 et trois fois plus dans sa ruche 2.
Combien a-t-il d'abeilles dans la ruche 2 ?
Combien a-t-il d'abeilles en tout ?

2500 abeilles Trois fois plus !



Réponse :
L'apiculteur aabeilles dans la ruche 2.
Il aabeilles en tout.

ReCreatisse.com

← Lis

← Cherche

← Complète

La ruse du renard CE2 13

$2500 \times 3 = 7500$
 $2500 + 7500 = 10\ 000$
L'apiculteur a 7500 abeilles dans la ruche 2.
L'apiculteur a 10 000 abeilles en tout.

ReCreatisse.com

← Vérifie



La ruse du renard CE2

$$50 \times 4 = 200$$

19

Il vend 200 kg de poissons.



La ruse du renard CE2

$$1500 \times 2 = 3000$$

20

Il a 3000 litres.